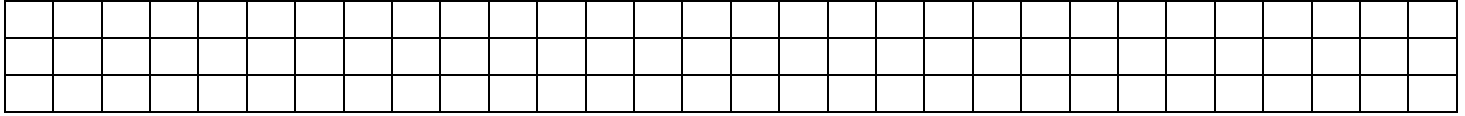




FICHA 3: COMPARACIÓN DE NÚMEROS HASTA 9



Objetivo: Comparar números hasta 9

Encierra el número que corresponda en cada caso. *Identificar*

• El número **mayor**.

a.

3	
5	

b.

6	
2	

• El número **menor**.

c.

1	
4	

d.

5	
7	

Encierra en cada casillero los números según las claves. *Comparar*

VERDE = NÚMERO MENOR	AZUL = NÚMERO MAYOR
----------------------	---------------------

a.

0 - 1

c.

7 - 9

e.

8 - 6

b.

5 - 7 - 8

d.

2 - 4 - 3

f.

1 - 6 - 9



Encierra **mayor** o **menor** según corresponda. *Comparar*

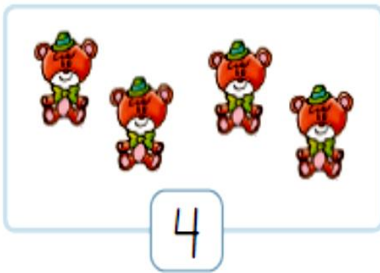
a.



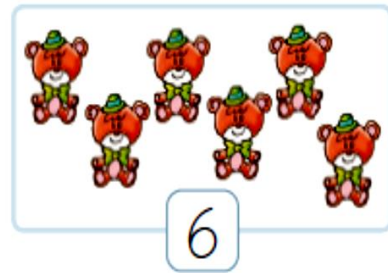
es menor que
mayor



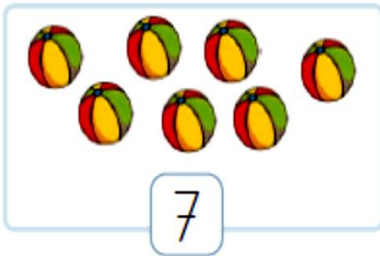
b.



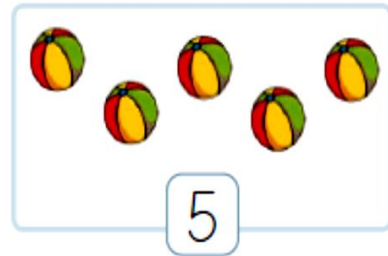
es menor que
mayor



c.




es menor que
mayor



Encierra en cada caso el grupo donde hay **menos** elementos.

a.



b.

